

Имя и фамилия Школа Учитель

Вопросы регионального тура олимпиады по географии

1. На стенной карте масштабом 1 : 250 000 расстояние между Тарту и Таллинном по прямой 62 см. Каково расстояние между этими городами на карте масштабом 1 : 1 000 000? 26

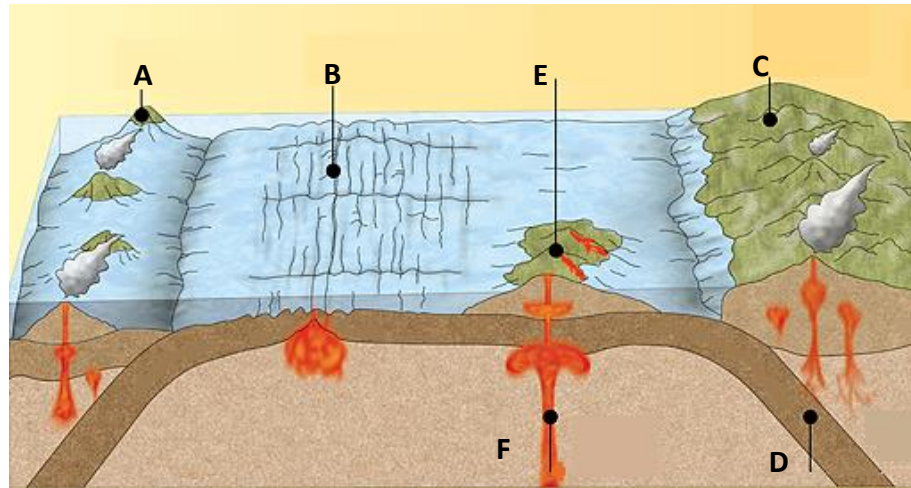
2. Найди четыре места, географические координаты которых: 26
 a) 30°S 130°E b) 60°N 6°E
 c) 30°S 70°W d) 70°N 50°W
 Какое из этих мест: (запиши только букву a, b, c или d) 26
 с самым сухим климатом с самым влажным климатом
 выше всех над уровнем моря с самой высокой плотностью населения
3. Какова разница во времени между Анадырем и Анкориджем (Anchorage)?
 Рейкьявиком и Лондоном? 26
4. Самолет вылетает из Токио в полночь по местному времени и прибывает в Сан-Франциско в 16 часов по местному времени. Какова продолжительность полета? 26

5. Найди неправильные утверждения и исправь их, не используя отрицания: 46
 a. Самое глубокое озеро Восточной Африки солоноводное.
 b. Посреди Атлантического океана тянется с севера на юг глубоководный жёлоб.
 c. Жемайтия – это возвышенность в Латвии.
 d. Манаус находится на берегу реки Мадейра
6. У Большого водораздельного хребта на юге Австралии и Драконовых гор на юге Африки наветренными являются восточные склоны. Почему в Андах на юге Южной Америки наветренный склон наоборот западный? 26

 Почему на наветренных склонах выпадает больше осадков, чем на подветренных склонах? 26

7. Найди в Атласе: 36
 a. Минимальная измеренная температура в Азии
 b. Место с максимальным в мире количеством осадков
 c. Течение, влияющее на формирование пустыни Атакама

13. Дополни рисунок тектоники плит, показав стрелками направление движения литосферных плит. 46
Объясни, почему плиты движутся.



.....

14. Что происходит в результате движения плит в местах, обозначенных на рисунке буквами??

- A.46
- B.
- C.
- D.

Недавно в новостях сообщили о раскаленных потоках лавы на Гавайях, которые залили большие площади и даже подожгли дома. На рисунке подобное место и явление обозначено буквами E и F. Что это за явление? 26

Подчеркни острова, на которых сейчас есть вулканы: 26

Тасмания, Алеутские, Курилы, Ирландия, Новая Земля, Гренландия, Малые Антильские, Азорские.

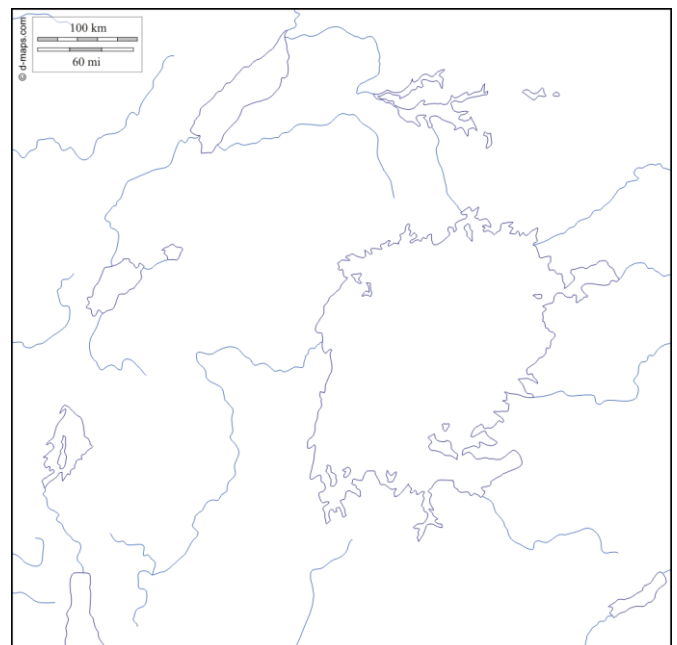
15. Посмотри на рисунок 3 приложения. Что показано на рельефных картах Земельного департамента? A 36
B C

16. Почему полярная ночь и полярный день бывают только в областях, расположенных между полярным кругом и полюсами? 46

.....

Назови, по крайней мере, четыре государства Европы, где бывают полярная ночь и полярный день.

17. Нарисуй на этой карте государственные границы и напиши названия государств. 46



Приложение Рисунок 1. (задание 9)

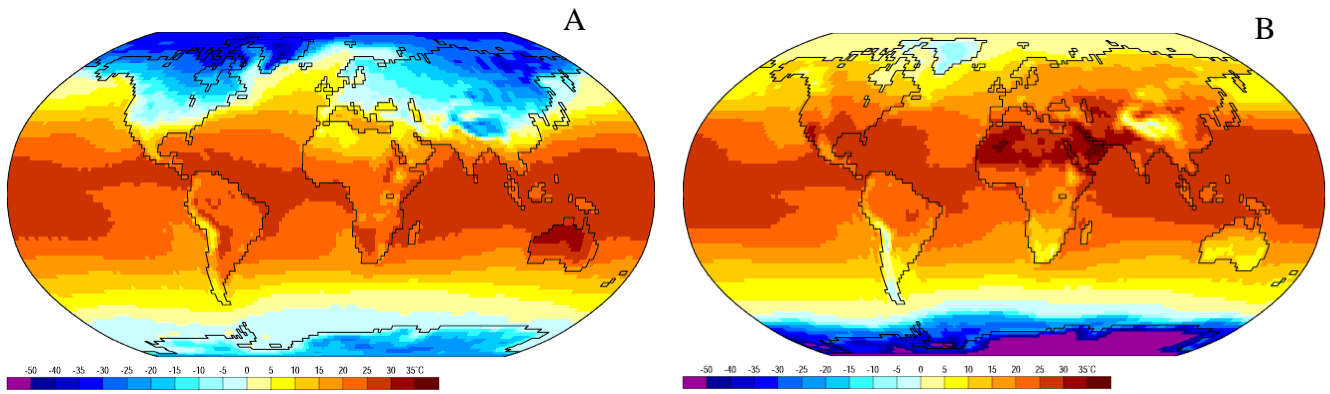


Рисунок 2 (задание 11)

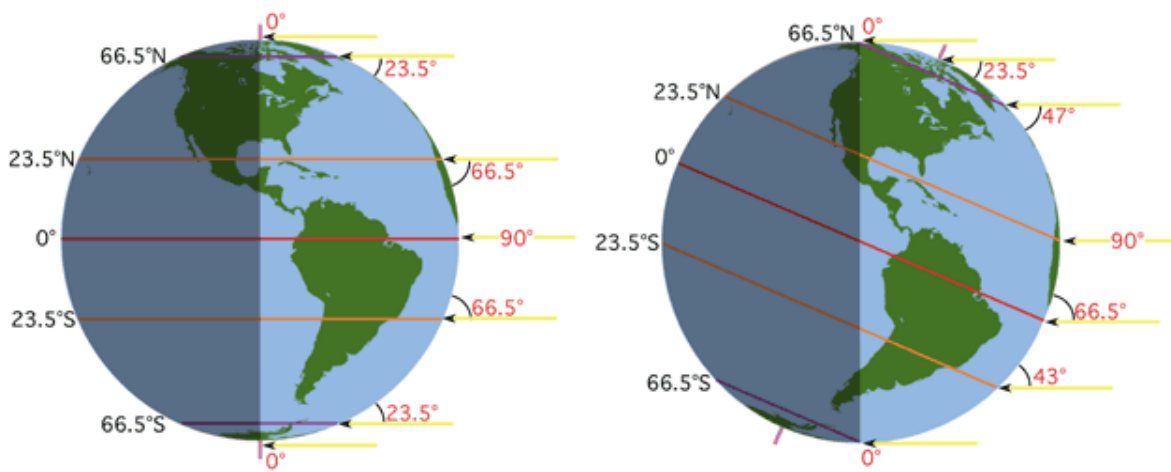


Рисунок 3 (задание 15)



.....

.....