

Вопросы уездного тура олимпиады по географии для 8 класса

1. Соедини каждую характеристику с соответствующим местом на карте, укажи название вулкана и страны, в которой он находится. 46

Самый активный вулкан в Европе, который извергался совсем недавно

Крупнейший в мире (по массе и объему) вулкан.

Вулкан, являющийся высочайшей вершиной части света Америка.....

Вулкан высотой 5895 м посреди равнины с национальным парком у его подножья
.....

2. Посмотри карты в «Uues maailma atlases» на стр. 9. а) Чем отличается аэрофото от карты? 26

.....
.....

б) Посмотри (стр. 9 в «Uues maailma atlases») карты 1–4 (номер карты красный в левом верхнем углу). К каким картам относятся приведенные ниже утверждения? 46

Эта карта имеет самый большой масштаб

Эта карта лучше всего подойдет иностранному туристу, которому надо добраться из порта на Тоомпеа.

Эта карта более всего обобщена

На этой карте показан наименьший участок местности.

3. Заполни, с помощью атласа, пропуски и исправь ошибки. Объясни, для чего были построены эти объекты. 46

Под проливом Па-де-Кале проходит 25,5 км длинной, соединяющий Великобританию с Бельгией. Он был построен для того, чтобы

В расположенном в Дании городе Киль начинается (или кончается), который соединяет Балтийское море с Норвежским. Он был построен для того, чтобы

4. а) Укажи на карте стрелкой направление течения Енисея. 46

Такого типа устье реки называется эстуарием. Во время прилива в эстуарий попадает морская вода, а отлив выносит наносы в море.

б) Подчеркни реки, образующие эстуарий.

Лена, Обь, Темза, Миссисипи, Парана, Св. Лаврентия, Ганг, Волга.

с) Как называется устье, подобное устью Нила?

д) Как оно образуется?

.....
.....



5. Объясни на примере Чилийского глубоководного жёлоба, как в океане образовались глубоководные желоба. Используй в ответе термины *океаническая* и *материковая плита*, а также названия конкретных литосферных плит. 26

.....

6. а) Найди разницу во времени между следующими местами: 36

- Азорские острова и Урумчи (Ürümqi) –
- Остров Пасхи (Lihavõttesaar) и Шри-Ланка –
- Земля Короля Фредерика VIII и Каанаак (Qaanaaq)

б) Почему в некоторых местах используется время, отличающееся от поясного? 26

.....

7. Что показывает рисунок 1 на странице иллюстраций? 26

-
- Когда сделан этот снимок: 5 июня или 5 декабря?
- Поясни.

8. Объясни точно и коротко, что такое: 46

- Мазурия –
- Нормандия –
- Трансильвания –
- В каком из этих регионов наименьшая плотность населения?

9. На какой титул претендуют как аргентинский город Ушуая, так и чилийский город Пунта-Аренас? 26

-
- 10. В каких странах Африки разность температур воздуха в течение года максимальна, и в каких минимальна. Напиши, в каких пределах колеблется температура. 66
- Самая большая разность температур в
- Обоснование.
- Наименьшая разность температур в
- Обоснование.

11. Что это за государства? 36

- Самое длинное в мире государство (протяженность с севера на юг свыше 4500 км).
- Государство с самой северной в мире столицей (укажи страну и столицу).
- Два государства в Америке, не имеющие морских границ

12. Какое явление природы, и в каком государстве изображает рисунок 2? 36

-
- Назови еще четыре государства, где подобные явления природы очень часты.
-

13. На странице иллюстраций показана плотность/размещение населения в Швейцарии. Охарактеризуй размещение населения и объясни его причины. Используй в характеристике цифры и названия мест. 46

.....

.....

.....

14. Символы или культовые сооружения каких религий показаны на фотографиях? 26

Фото А Фото В..... Фото С..... Фото D.....

15. Участницы конкурса Мисс Универсум 2013 представляли национальные костюмы своих стран. Представительницы каких стран показаны на фотографиях? Выбери соответствующие страны из списка. *Перу, Финляндия, Кения, Канада, Индия, Корея, Великобритания, Венгрия.* 26

Фото 1 Фото2 Фото 3..... Фото 4.....

16. Выполни задания на основе карты. 86

Каково расстояние между хуторами Тамме и Vainu а) по прямой и
 б) по дороге

Виден ли хутор Тамме с хутора Vainu? Обоснуй Да / Нет

Укажи отрезок реки с самым быстрым течением.

В 1 км от хутора Vainu по азимуту 315° собираются ставить мобильную вышку. Отметь это место на карте крестиком.

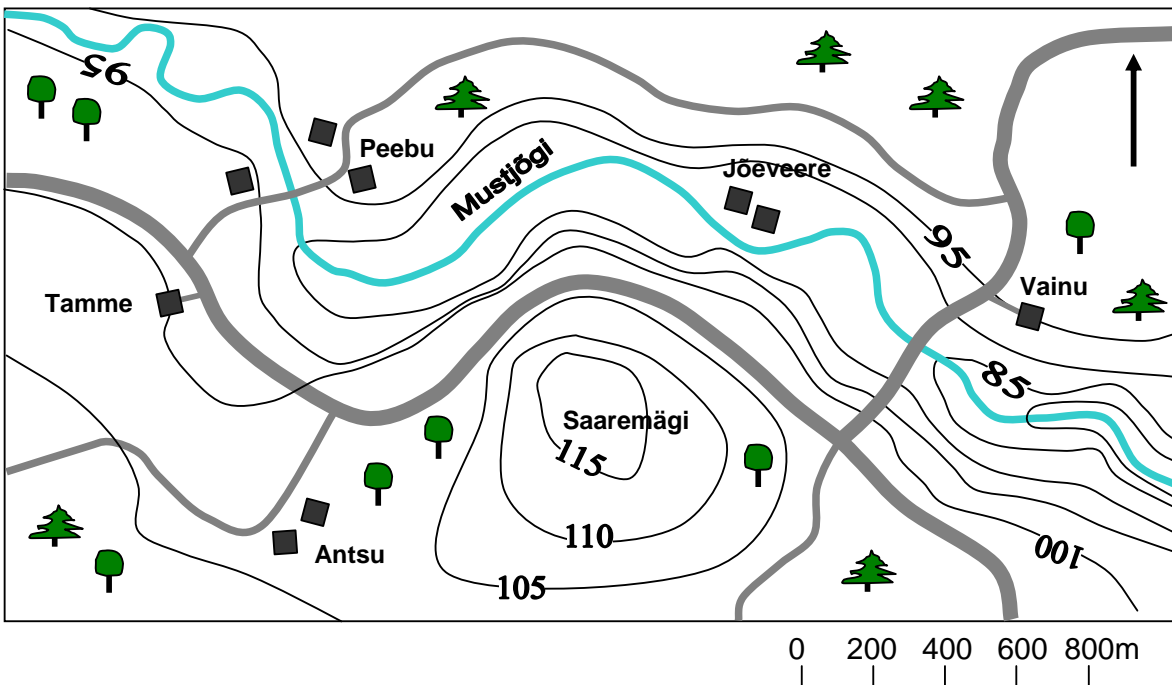


Рис. 1 (зад. 7)

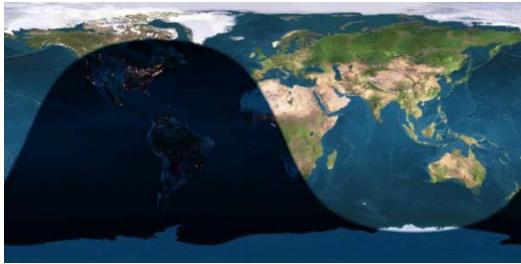
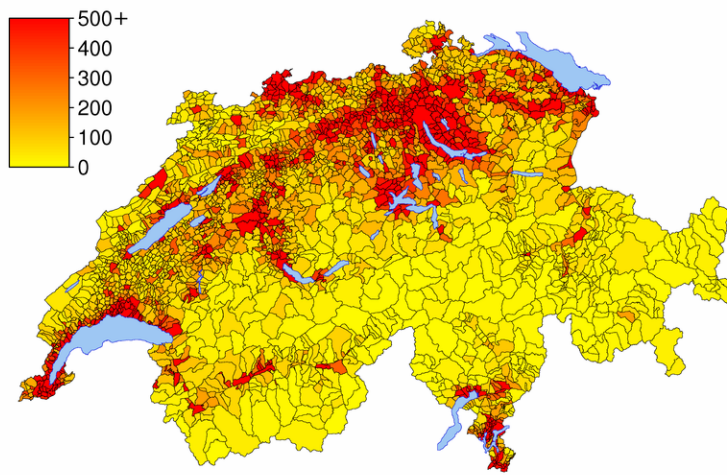




Рис. 2 (зад. 12)



Плотность населения в Швейцарии (зад. 13)



Святынища (зад. 14)



Национальные костюмы (зад. 15)

