

NimiKool Õpetaja

Geograafiaolümpiaadi maakonnavoru küsimused 8. klassile

1. Vii kokku iga väide õige kohaga kaardil, lisa vulkaani nimi ja riik, kus see asub. 4p

a) Aktiivseim vulkaan Euroopas, mis purskas alles hiljuti.

b) Maailma suurim (massilt ja mahult) vulkaan.

c) Vulkaan, mis on ühtlasi Ameerika maailmajao kõrgeim tipp.

d) 5895 m kõrgune vulkaan, keset tasandikke, mille jalamil on rahvuspark.

2. Vaata Uue maailma atlasest lk 9. 2p

a) Mille poolest erineb aerofoto kaardist?

.....

b) Vaata Uue maailma atlase lk 9 kaarte 1-4 (kaardi number punasega vasakul ülaseravas). Mis kaardi kohta käivad need väited? 4p

Selle kaardi mõõtkava on kõige suurem

Selle kaardi abil on välisturistil kõige parem liikuda reisisadamast Toompeale.

Seda kaarti on kõige rohkem üldistatud.

Sellel kaardil on kujutatud kõige väiksemat maa-ala.

3. Täida atlase abil järgmistes väidetes olevad lüngad ja paranda vead. Selgita, miks see objekt on ehitatud.

25,5 km pikkune asub Calais' väina all ning ühendab Suurbritanniat ja Belgiat.

Ehitati selleks, et 4p

Taanimaal asuvast Kielist saab alguse (või lõpeb), mis ühendab Läänemerd ja

Norra merd. Ehitati selleks, et

4. a) Märki noolega kaardile Jenissei voolusuund. 4p

Sellist tüüpi jõe suuet nimetatakse estuaariks ehk lehtersuudmeks. Sellesse jõesuudmesse jõuab tõusulainega sisse soolast merevett ja mõõnalaine viib jälle setteid ookeani poole.

b) Tõmba joon alla jõgedele, millel on estuaar.

Leena, Ob, Thames, Mississippi, Parana, St Lawrence, Ganges, Volga.

c) Kuidas nimetatakse jõesuuet, mis on Niilusel?

d) Kuidas see tekib?

.....



5. Selgita Tšiili süviku näitel, kuidas on ookeanidesse tekkinud süvikud. Kasuta vastuses mõisteid *ookeaniline ja mandriline laam* ning konkreetsete laamade nimetusi. 2p

.....

6. Leia ajavahed ehk kui palju erineb kellaaeg järgmistes kohtades: 3p

Assoori saared ja Ürümqi –

Lihavõttesaar ja Sri Lanka –

Kuningas Frederik VIII maa ja Qaanaaq

Miks kasutatakse mõnel pool arvutuslikust ajavööndist erinevat aega? 1p

.....

7. Mida on pildilehe pildil 1 kujutatud? 2p

Kas pilt on tehtud 5. juunil või 5. detsembril?

Selgita.

8. Selgita võimalikult täpselt, aga lühidalt, mis on: 4p

Masuuria –

Normandia –

Transilvaania –

Millises neist on kõige hõredam asustus?

9. Mis tiitlile pretendeerivad nii Argentina linn Ushuaia kui ka Tšiili linn Punta Arenas? 2p

.....

10. Mis Aafrika riikides on õhutemperatuuri erinevused aasta jooksul kõige suuremad ja kus kõige väiksemad? Lisa ka see, mis vahemikus temperatuur kõigub. 6p

Kõige suuremad õhutemperatuuri erinevused on:

Põhjenda.

.....

Kõige väiksemad õhutemperatuuri erinevused on:

Põhjenda.

.....

11. Mis riikidega on tegemist? 3p

See on maailma pikim riik (maismaa ulatus põhjast lõunasse üle 4500 km).

Selle riigi pealinn asub kõige kaugemal põhjas. (Nimeta riik ja pealinn).

Kaks Ameerika maailmajao riiki, kellel puudub merepiir?

12. Mis loodusnähtusele ja riigile viitab pilt 2? 3p

Nimeta veel neli riiki, kus sarnased loodusnähtused on väga sagedased.

.....

13. Pildilehe kaardil on detailsemalt kujutatud rahvastiku paiknemist/tihedust Šveitsis. Iseloomusta ja põhjenda rahvastiku taolist paiknemist. Kasuta iseloomustamisel arvandmeid ja kohanimesid. 4p

.....

.....

.....

.....

14. Mis religioonide sümbolite (pühakodadega) on tegemist piltidel? 2p

Foto A Foto B Foto C.....FotoFoto

15. Mis riikide esindajad esitlesid Miss Universum 2013 valimisel oma rahvuskostüüme? Tee loetelust õige valik. *Peruu, Soome, Kenya, Kanada, India, Korea, Suurbritannia, Ungari.* 2p

Foto 1 Foto 2

Foto 3 Foto 4

16. Lahenda kaardi põhjal. 8p

Kui kaugemale jääb Vainu talu Tamme talust a) linnulennul ja mööda teed

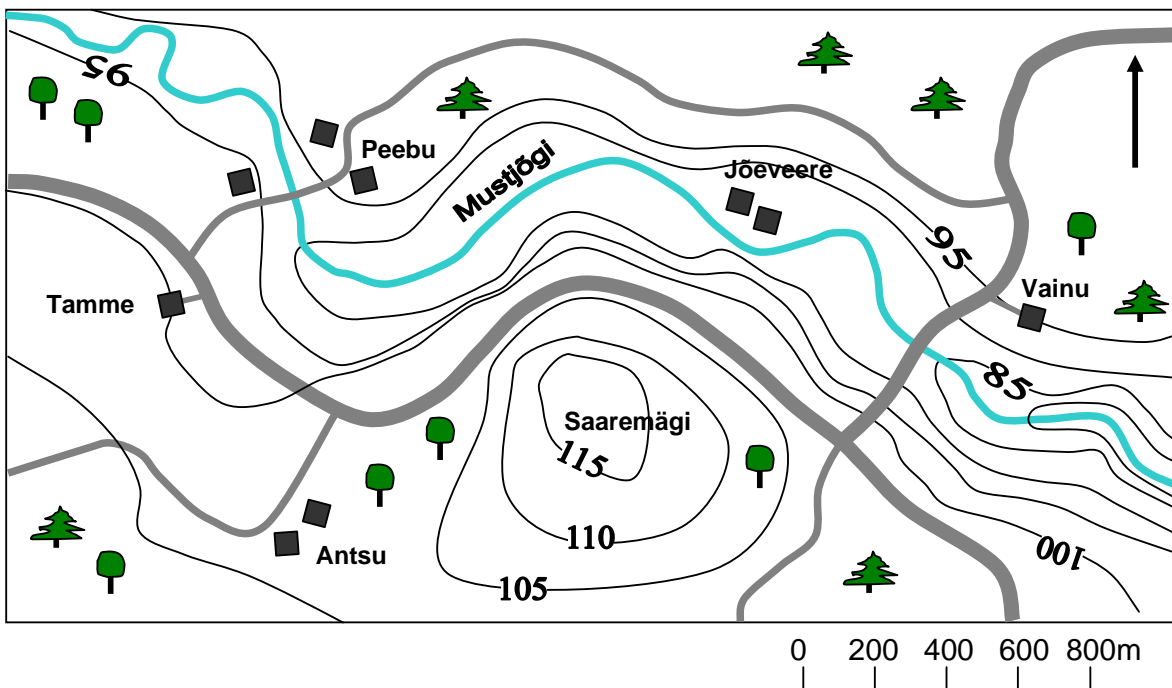
Kas Vainu talu juurest näeb Tamme talu? Põhjenda Jah / Ei

.....

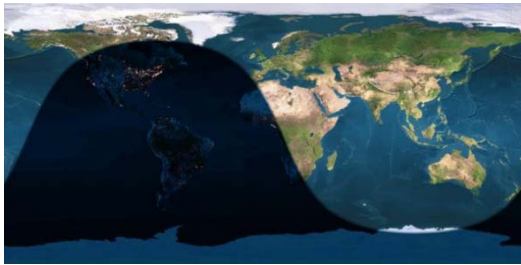
Tähista jõe lõik, kus on kõige kiirem vool.

Vainu talust 1 km kaugusele asimuudil 315° tahetakse rajada mobiilimast. Tähistage see koht ristikesega kaardil.

Kokku 60p



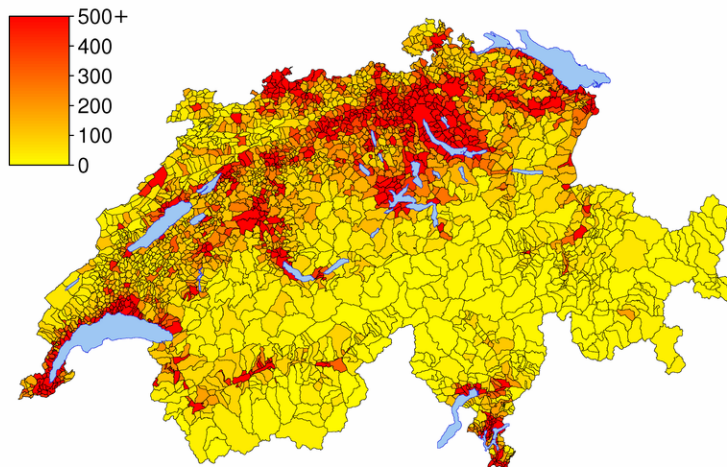
Pilt 1 (ül 7)




Pilt 2 (ül 12)



Rahvastiku tihedus Šveitsis (ül 13)



Pühakojad (ül 14)



Rahvuskostüümid (ül 15)

