

## Maastikuvõistluste vastused

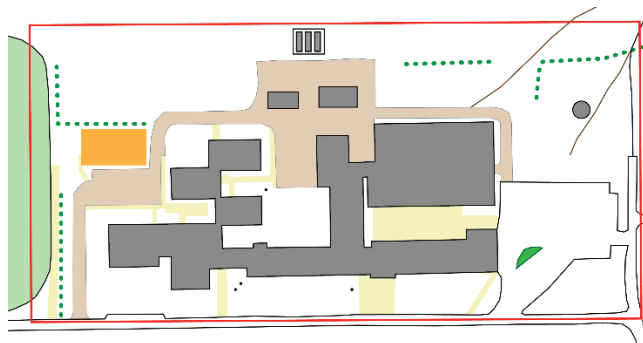
### 7. klass

1. Mõõtkava 1:7600
  2. 12 korvi
  3. punktid kaardil
  4. Kiviaed
  5. Kasvuhooned
  6. 58,5m
  7. Tardkivim
- KP1
- a) Kuumasaared ja mõõtmised
  - b) Kaardistus

KP2 – 9,3m

KP3 – asimuut 205° ja vahemaa 55m

KP4 – üleujutusala piirid



### 8. klass

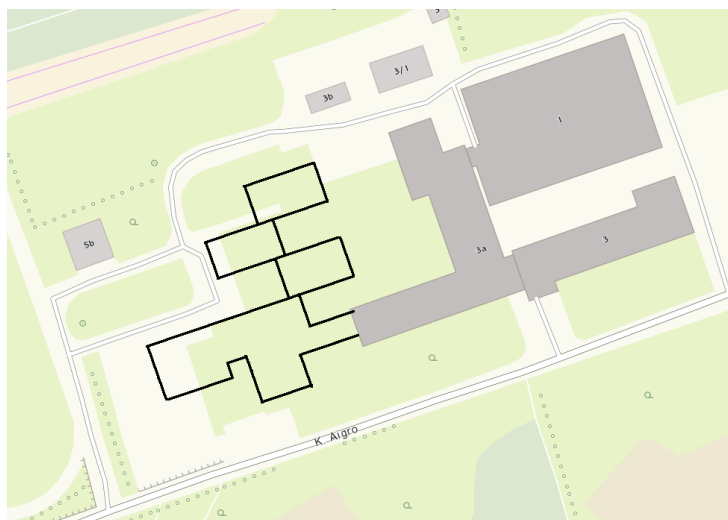
1. Mõõtkava 1:11 000
  2. 58,4m
  3. punktid kaardil
  4. 208°
  5. Puudega kiviaed
- KP1
- a) Mikrokliima
  - b) Kaardistus

KP2 – a) 53° b) 48,5m

KP3 – a) 0° b) 7,5m

KP4 – Üleujutusala piirid kaardil

KP5 – Nõo pärna kõrgus: 22,7 m



### 9. klass

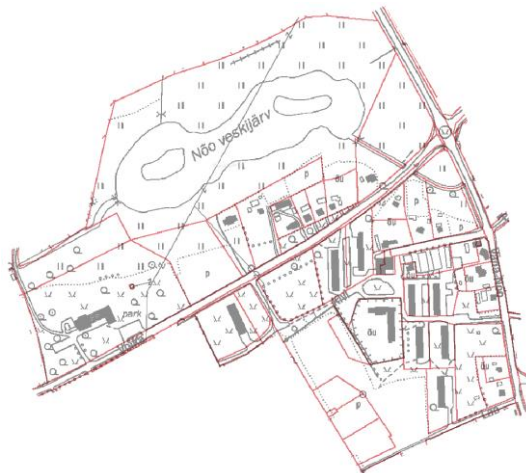
1. Mõõtkava 1:9200
2. punktid kaardil
3. punktid kaardil
4. R1: 67,5...69,0      R2: 63,5...67,5
5. Koosta kaart

KP2 – a) 66m b) 16,6%

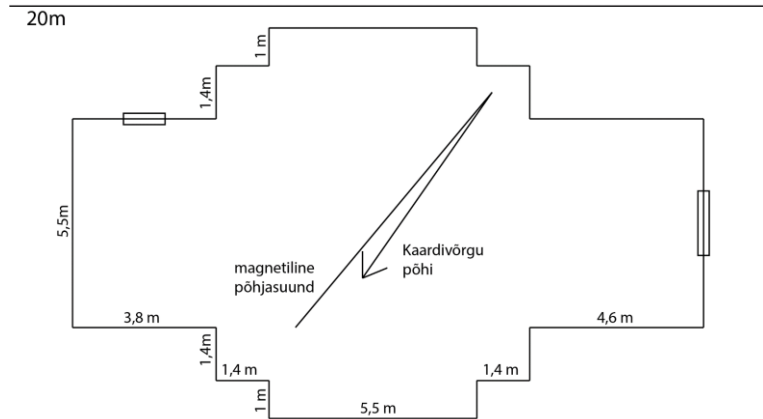
KP3 – asimuut 30°

KP4 – üleujutusala piirid

KP5 – a) õigeusu kirik  
b) Tornikõrgus 16,6m



c) kaardistus



### Gümnaasium

1. Mõõtkava 1:7600
2. Kaardistus
3. Viiruta alad
4. Tähistatud ühiskondlikud hooned
5. KP1 – üleujutusala joonistamine
6. KP2: a) õigeusu kirik  
b) Tornikõrgus 16,6m  
c) kaardistus (vaata 9. klass)
7. Punktpaletiga pindala mõõtmine

