








GPS võistlus, Võru 2014

Võistkond:	Start	
	Finiš	
Võistkonnaliikmete nimed:	Aeg	
	Karistuspunkte	
	Ül. Punktid	
	Punkte kokku:	

- Aega ülesannete sooritamiseks on 50min, **iga ületatud minut toob ühe karistuspunkti!**
- Võidab enim punkte kogunud võistkond. Võrdse punktide arvu korral on määravad karistuspunktid.
- Ülesannete sooritamise mõistlik järjekord vali ise!

NB! Ära torna. Ole liikluses ettevaatlik!

Punkt GPS'is	Ülesanne / Küsimus	Vastus	Punkte
Paviljon Kooliuks	Punkt asub pargis ja tähistab ühe paviljoni asukohta. Kui kaugel on see punkt kooli välisuksest (punkt Kooliuks). Kirjuta vastus meetrites.		max 2p
Kaev1 Kaev2 Kaev3 Kaev4	Milline punkt on nüüdseks uue ilme saanud puurkaevule kõige lähemal? Tõmba õigele ring ümber. 	Kaev1 Kaev2 Kaev3 Kaev4	max 1p
Katariina	Suuna punane nool Katariina peale ja joonista vastuse lahtrisse suund, kuhu vaadates näeme Hurta. Katariina ↑		max 2p
Vorrand	Otsi ümbrusest vihjet ja lahenda võrrand: $X = \text{Suwalki} - \text{Landskrona} + \text{Smolyan}$ Vastuseks kirjuta X'i väärtus.		max 2p
Kirikutorn	Määra kõikide näha olevate kirikutornide asimuudid (kahe torniga kirikul määra ainult suurem torn)? Kirjuta vastuseks leitud asimuudid kraadides.		max 4p

Laululava		Leia lipuvarraste rivi ja mõõda ära distants esimesest viimaseni. Vastuseks kirjuta mitu meetrit said.		max 3p
Uustn	Leia sellel tänaval maja nr 1. Mis on juhtunud selle maja tänavapoolse välisuksega. Kirjuta õige variant: a) Punaseks värvitud b) Kinni müüritud c) Eest ära kukkunud d) Avaneb teiselt korruselt		max 1p	
Jaljed	Leia kollane jäljerada ja tee kindlaks, kust see alguse saab? Vastuseks kirjuta, mis maja eest.			max 2p
Telefon	Leia ümbruses oleva vihje abil, kes vastab telefonile 056 667 912?			max 1p
Midateha	Leia sealt vastus küsimusele: mida tuleb teha, et tuju poleks paha?		max 1p	
MisPaev	Mis päeval viiakse prügi? Mis kellaaeg on kirjutatud ukse kohale?		max 2p	
Ylekaik	Punkt on kõnniteel ülekäiguraja juures. Mõõda edela suunas kulgeval kõnniteel vahemaa järgmise ülekäigurajani. Vastus anna meetrites.		max 3p	
Garaazid	Seisa täpselt punktis. Peaksid nägema garaaže number 5 ja 19. Kujuta ette, et sa seisad nurga tipus ja nurga haarad viitavad just nende garaažide suunas. Kirjuta vastuseks see nurk kraadides.		max 3p	
Nurk	Leia lähedalt objekt, mis on ebaharilikult kõrge. Edasi seisa täpselt Liiva ja Vee nurgale ning määrä, mis ilmakaarde see objekt jääb? Ilmakaar ongi vastuseks. Lisaks põhi, lõuna, ida ja lääts ilmakaartele on veel vahepealsed ka!			max 2p
Osuta	Keera juuresolev nool lõuna suunda ja joonista vastuseks suund, mis osutab kooli peaukse suunas.	S ↑		max 2p